









Der Zucker

100er - Zuckerrübenfeld

Name: _____

1			4				8		
	12			15					20
		23			26			29	
									40
	42		44				48		
		53			56			59	
61				65					70
	72		74				78		
		83			86				90
91								99	



Der Zucker

100er - Zuckerrübenfeld

Name: _____

- 1 Suche die Zahlen der Zuckerrübenfelder und schreibe sie von der kleinsten zur größten Zahl nieder.

- 2 Schreibe die fehlenden Zahlen in die 100er-Tafel.

- 3 Male alle Felder mit einer doppelten Ziffer gelb an.

- 4 Male alle Zahlen mit der Einerzahl 0 blau an.

- 5 Male alle Zahlen mit der Zehnerzahl 8 rot an.

- 6 Welche Zahl wurde zwei Mal bemalt?

