











# Getreide

## 100er Feld

Name: \_\_\_\_\_

**1** Lies den Satz und trage die richtige Zahl ein.

1	2		4	5	6	7	8	9	10
11	12	13	14	15	16	17	18	19	
21	21	23		25	26	27		29	30
31	32	33	34	35	36	37	38	39	40
41		43	44	45	46	47	48	49	50
51	52	53	54	55	56	57	58	59	60
61	62	63	64	65	66		68	69	70
71	72	73	74	75	76	77	78	79	80
81	82	83	84	85		87	88	89	90
91		93	94	95	96	97	98	99	100

Das Weizenfeld ist auf 20.

Der Traktor ist auf 3.

Das Brot ist auf 24.

Das Mehl ist auf 28.

Der Maiskolben ist auf 67.

Das Dinkelkorn ist auf 86.

Das Roggenkorn ist auf 92.

Das Weizenkorn ist auf 42.





# Getreide

## 100er Feld

Name: \_\_\_\_\_

2 Trage alle restlichen Zahlen in das 100er Feld ein.

3 Male alle Zahlen mit der Einerzahl 6 rot an.

4 Lies und rechne:  
Der Bäcker backt 67 Semmeln. Frau Sommer kauft 9 Semmeln. Herr Winter kauft 12 Semmeln. Wie viele bleiben übrig?

R:

67	-	9	-	12	=	46

A: Es bleiben 46 Semmeln übrig.

